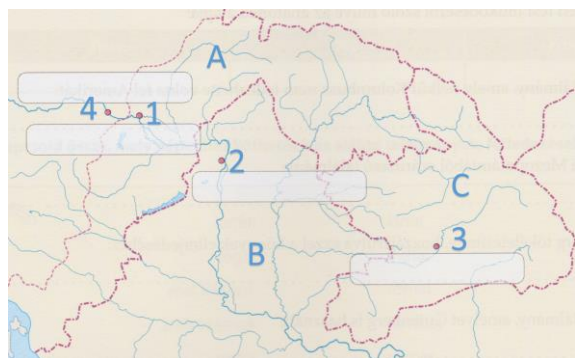


Miket jelölnek a betűk és a számok a térképen?



A:

B:

C:

1:

2:

3:

Melyik várost jelöli a négyes szám? Miért került a többi mellé?

8 pont

Igazak vagy hamisak a következő megállapítások?

A mohácsi csata után az ország három részre szakadt.

A török szultán Budát vérveszteség nélkül szerezte meg.

A török által megszállt területekből jött létre a Királyi Magyarország.

A janicsárok katonáskodásért cserébe földet kaptak.

Az oszmán tartományok élén a pasa állt.

Pozsony a Habsburg Birodalom központja volt.

A mezővárosok egy része marhakereskedelemmel foglalkozott.

7 pont

Kire vagy mire ismersz az alábbi meghatározásokból?

Magyarország királyává koronázott kelet-magyarországi főúr:

A török idején ebben a városban ülésezett a rendi országgyűlés:


Török lovas katona:

A mohamedánok temploma:

Magyar fegyveres marhapásztor:

5 pont

Milyen évszámokat és eseményeket jelölnek az időszalag feletti betűk?



A:

B:

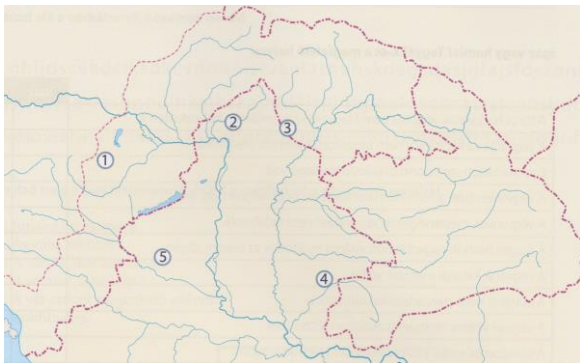
C:

D:

8 pont

Párosítsd a számokat az alábbi helynevekkel!

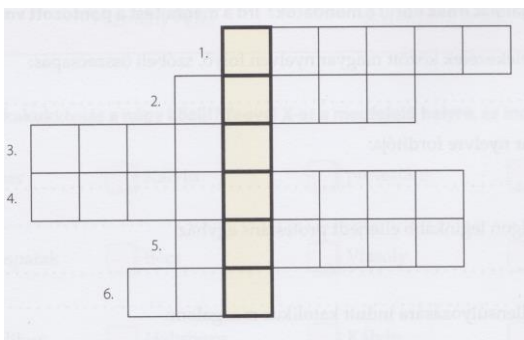
Szigetvár, Drégely, Kőszeg, Temesvár, Eger



- 1:
2:
3:
4:
5:

5 pont

Fejtsd meg a keresztrejtvényt!



1. Jurisics keresztnéve:
2. Ágyúba töltötték:
3. A várvédőket hívták így:
4. A várakat vette körül:
5. A vár sarkait megerősítő védmű:
6. Erődítmény:

Megfejtés:

Nézz utána, mire használták!

8 pont

Az alábbiakban az Erdélyi Fejedelemség három jelentős folyójának nevét olvashatod. Írd a nevüket a városok mellé!

Maros, Szamos, Körös

Kolozsvár:

Arad:

Gyulafehérvár:

Nagyvárad:

4 pont

Egészítsd ki az Erdély népeivel kapcsolatos szöveget!

magyar	fejedelem	román	katonáskodásért	négy
szász	adójukat	pásztorkodással	székelyek	

A 17. században Erdélyben a) népcsoport alkotta a lakosság többségét.
A b) nemesség, a német ajkú c) polgárság és
a d) alkották az erdélyi rendeket. A rendek birtokolták a jogokat. Részt
vettek a e) választásában, és kiváltságokkal rendelkeztek. A nemesség
és a székelyek adómentességet élveztek f) cserébe. A szász kereskedők
egy összegben fizethették meg g) A 16–17. század időszakában az
elnéptelenedett területekre nagymértékű h) bevándorlás ment végbe.
Erdély új lakói elsősorban i) foglalkoztak. Politikai jogaik nem voltak.

- a)
b)
c)
d)
e)
f)
g)
h)
i)

9 pont

Milyen nevet, fogalmat írnak körül az alábbi mondatok?

Erdély uralkodóinak megszólítása:

Erdélyen kívüli, de a fejedelemséghez tartozó területek neve:

A fejedelemség központja:

Erdély fejedelmeinek távlati célja:

A szász kereskedők kiváltsága:

Erdély területén biztosított volt a szabad:

Erdély kiváltságos rendje, kötelező katonáskodással tartoztak:

7 pont

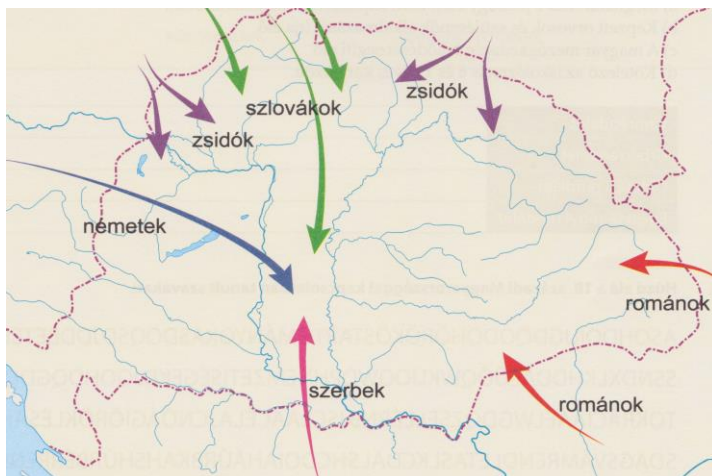
Írd az alábbiakat a táblázat megfelelő helyére!

Eszék, Szigetvár, Szent Liga, Zrínyi Miklós, Szentgotthárd

A török kiűzésére létrejött szövetség	
Magyar hadvezér, költő, politikus	
Győzelem a törökök felett 1664-ben	
Hídjának felégetése nehezítette a törökök útját	
Itt halt hősi halált Zrínyi Miklós dédapja	

5 pont

A térkép alapján egészítsd ki a mondatokat!



A Felvidékről az Alföldre vándorolt nemzetiség:

A Habsburgok szervezett betelepítésének eredményeként érkeztek az országba:

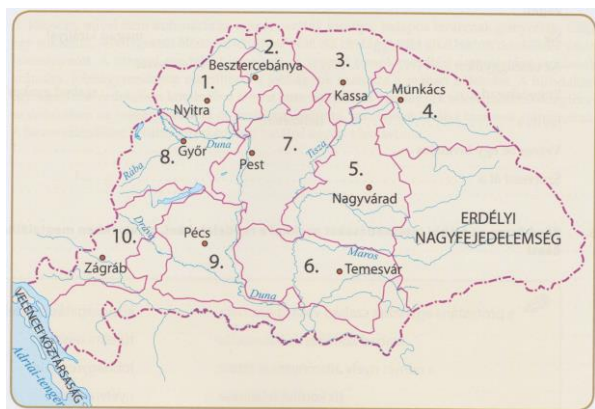
A keleti határvidékről az erdélyi területekre bevándorolt nemzetiség:

A déli határvidéken élő, Magyarország területére bevándorolt nemzetiség:

Közép- és Kelet-Európa felől bevándorolt nép:

5 pont

A térkép alapján válaszolj a kérdésekre!



Hogyan változtatta meg II. József Magyarország közigazgatási beosztását?

Hány kerületre osztotta Magyarország területét?








Sorolj fel három kerületközpontot!

Sorolj fel két területet, amelyeket nem tagoltak be a kerületi rendszerbe!

Melyik kerület központja volt Pest?

8 pont

Töltsd ki az alábbi táblázatot!

	Név	Tevékenység
		
		
		
		
		
		
		

Név:

Dobó István, Bocskai István, Bethlen Gábor, Zrínyi Miklós, II. Rákóczi Ferenc, Mária Terézia, II. József

Tevékenység:

sikeres harc a Habsburgok ellen, önálló magyar hadsereg gondolata, vámrendelet, egeri diadal, Erdély aranykora, a Habsburg-ház trónfosztása, türelmi rendelet